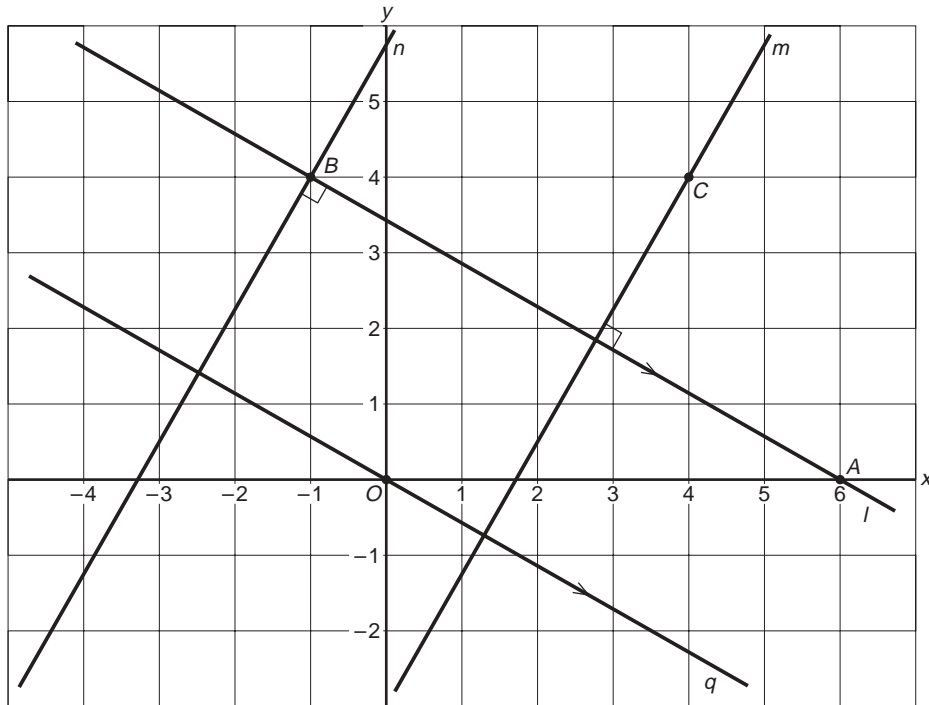


Diagnostische toets

bladzijde 184

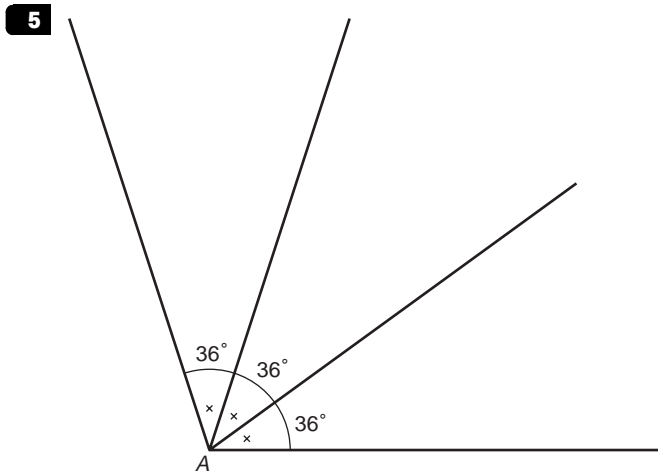
1



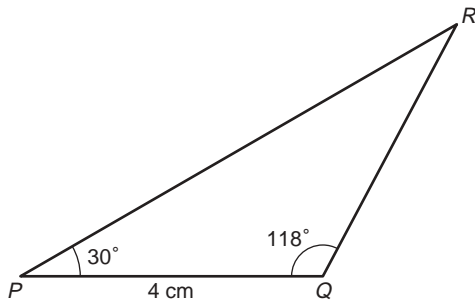
- 2 a Je ziet 4 rechte hoeken.
b Er zijn 2 stompe hoeken.
c Er zijn 10 scherpe hoeken.

- 3 $\angle P = 33^\circ$
 $\angle Q = 79^\circ$
 $\angle S = 117^\circ$
 $\angle T = 59^\circ$

- 4** a 150°
 b 45°
 c $67\frac{1}{2}$



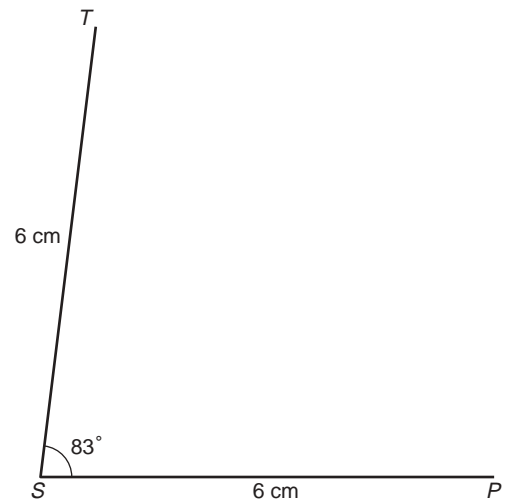
- 6** a



- b $\angle R = 32^\circ$

bladzijde 185

- 7** a $\angle S = 38^\circ$
 b T ligt 45 dm boven de waterspiegel.
 c

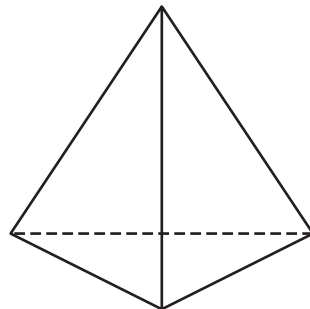


- 8** a De boot vertrekt uit Nice.
b De koers van Livorno naar Bastia is 210° .
De afstand is 14 mm op de kaart en dat is 150 km in werkelijkheid (100 km is ongeveer 9 mm).
c De koers van Ajaccio naar Marseille is 295° .
De afstand is 29 mm op de kaart en dat is ruim 310 km in werkelijkheid.

- 9** $a =$ kruisend
 $b =$ kruisend
 $c =$ snijdend
 $d =$ evenwijdig

- 10** a Dit is een piramide met als grondvlak een driehoek.
b Nee.
c 3 paar.

Herhaling



piramide